



UNITÉ 4.- LE FONCTIONNEMENT D'UN OBJET TECHNIQUE

A. Observation d'objets techniques simples

Qu'est-ce qu'un objet technique ?






A partir des photos suivantes, Quels sont les objets qui ont été fabriqués par l'homme et ceux qui sont à l'état naturel ?



Objets façonnés par l'homme : Objets techniques	Éléments naturels







A quels besoins ces objets façonnés par l'homme répondent-ils ?

PHOTO	OBJET	BESOIN
		
		
	Chariot élévateur	
		
		



B. A quoi servent ces objets ?

	Ce téléphone permet :		Ce caddie sert à :
	Ce bureau sert à :		Le pont permet :

**C. Comment ça marche ? Pourquoi cela me plaît ?**

Objets	Décrivez le principe de fonctionnement	Qu'est-ce qui vous plaît dans l'objet
 <p>Valise à roulettes</p>		
 <p>La trottinette</p>		
 <p>La limousine</p>		
 <p>TGV (AVE)</p>		